


تمارين - تقديم قراءة و كتابة الأعداد الكسرية

1 - اكتب العدد الكسري الذي يمثل الجزء الملون



2 - اكتب العدد الكسري الذي يمثل الجزء الملون




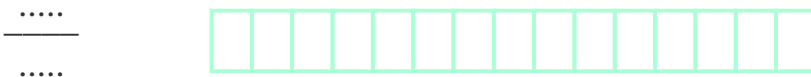
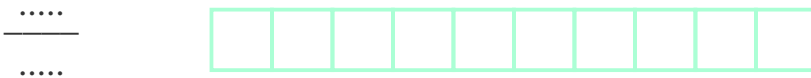
3 - لون الجزء لتمثيل العدد الكسري المحدد



4 - لون الجزء لتمثيل العدد الكسري المحدد



5 - قم بتلوين النماذج أدناه بحيث تمثل كسور متكافئة. ثم اكتب الكسور المقابلة لكل نموذج.



تصحيح - تقديم قراءة وكتابة الأعداد الكسرية


1 - اكتب العدد الكسري الذي يمثل الجزء الملون

$$\frac{2}{5}$$



2 - اكتب العدد الكسري الذي يمثل الجزء الملون

$$\frac{7}{8}$$



3 - لون الجزء لتمثيل العدد الكسري المحدد

$$\frac{3}{5}$$




4 - لون الجزء لتمثيل العدد الكسري المحدد

$$\frac{2}{3}$$




5 - قم بتلوين النماذج أدناه بحيث تمثل كسور متكافئة. ثم اكتب الكسور المقابلة لكل نموذج.

$$\frac{3}{5}$$



$$\frac{6}{10}$$



$$\frac{9}{15}$$



$$\frac{12}{20}$$

