

تمرين - سلسلة من الأعداد - تمثيل عدد على المستقيم العددي

1 - أكمل سلسلة الأعداد التالية (قم بالعد باثنين تصاعديا) :

71	73	75
.....	89		

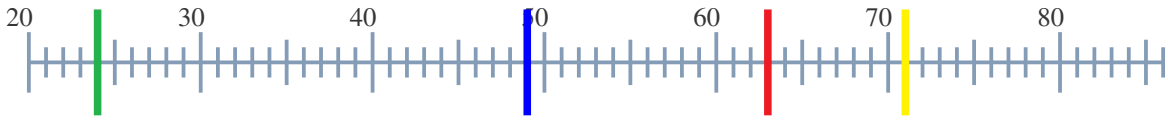
2 - أكمل سلسلة الأعداد التالية (قم بالعد باثنين تنازليا) :

31	29	27
.....	13		

3 - قم بتمثيل العدد 62 على المستقيم العددي :



4 - أوجد الأعداد المقابلة للمواقع المشار إليها على المستقيم العددي :



- :
- :
- :
- :

تصحيح - سلسلة من الأعداد - تمثيل عدد على المستقيم العددي

1 - أكمل سلسلة الأعداد التالية (قم بالعد باثنين تصاعديا) :

71

73

75

77

79

81

83

85

87

89

2 - أكمل سلسلة الأعداد التالية (قم بالعد باثنين تنازليا) :

31

29

27

25

23

21

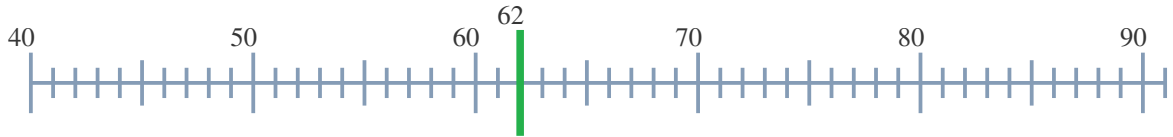
19

17

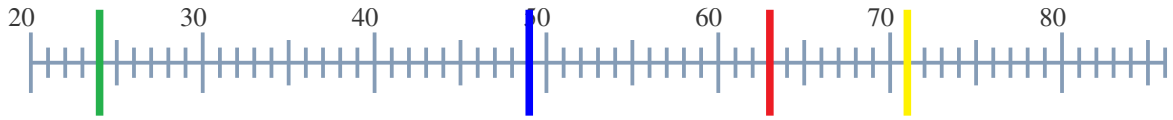
15

13

3 - قم بتمثيل العدد 62 على المستقيم العددي :



4 - أوجد الأعداد المقابلة للمواقع المشار إليها على المستقيم العددي :



— : 24

— : 49

— : 63

— : 71